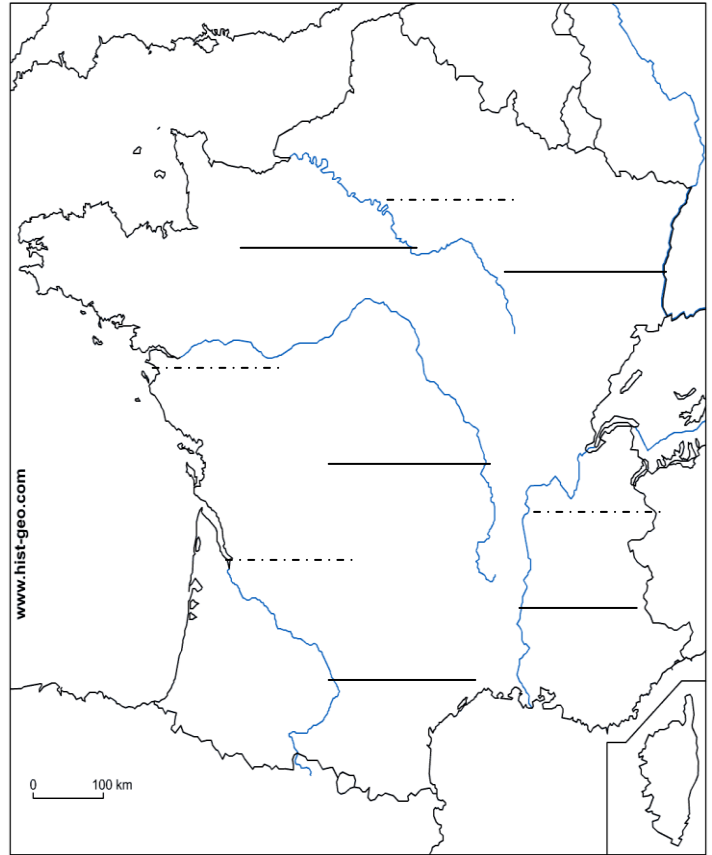


Les fleuves

2) Cherche dans ton dictionnaire la définition du mot **fleuve** et note la :

3) Sur ta carte, repasse en **bleu** les **fleuves** et écris leur **nom**.



3/ **L'embouchure** d'un fleuve est l'endroit où il se jette dans la mer.

Complète le tableau : mets une croix.

Se jette dans	L'océan Atlantique	La mer Méditerranée	La Manche

Recherche dans ton dictionnaire la définition :

- d'un estuaire :
- d'un delta :

4/ Dans quelles montagnes ces fleuves prennent-ils leur source ?

- Loire :
- Garonne :
- Rhône :

5/ Un affluent est un cours d'eau qui se jette dans un autre plus important.

De quels fleuves sont-ils les affluents ? Complète avec **Seine, Loire, Garonne, Rhône**

- Saône, Isère, Ardèche :
- Eure, Marne, Oise :
- Dordogne, Ariège, Lot :
- Allier, Vienne, Loir :

6/ Relie et écris le nom des villes sur la carte

Traverse

- | | | | |
|---------|---|---|----------|
| Seine | • | • | Bordeaux |
| Loire | • | • | Paris |
| Garonne | • | • | Lyon |
| Rhône | • | • | Nantes |

7/ Cherche dans le dictionnaire la définition de :

Confluent :

8/ Complètes avec le mot qui convient : **amont, embouchure, affluent, aval**

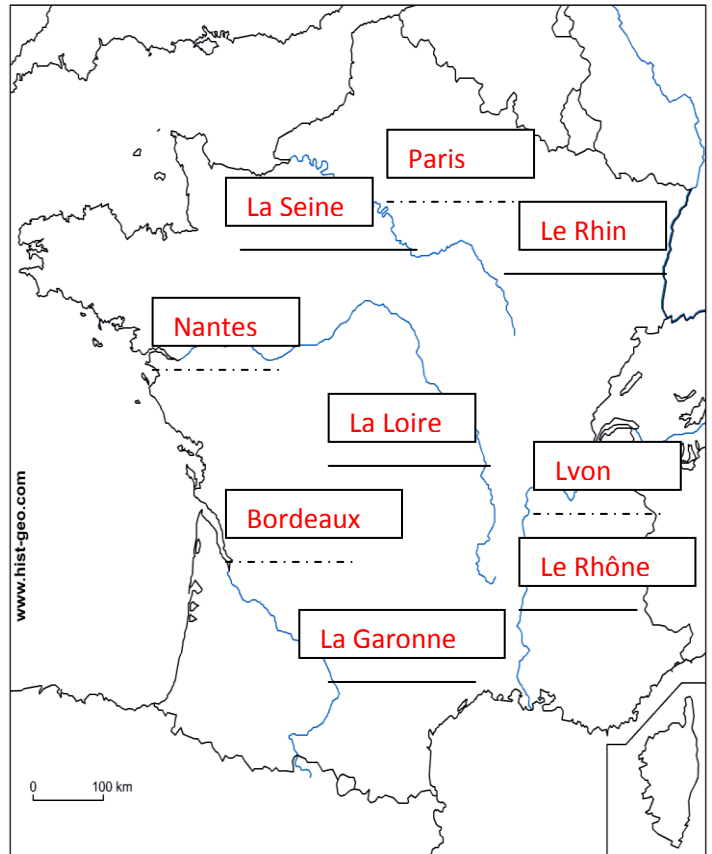
- Un cours d'eau qui se jette dans un autre :
- Partie d'un cours d'eau qui se trouve plus proche de la source :
- Partie d'un cours d'eau qui se trouve plus proche de la mer :
- Entrée d'un fleuve dans la mer :

Les fleuves : correction

2) Cherche dans ton dictionnaire la définition du mot **fleuve** et note la :

C'est un cours d'eau qui se jette dans la mer.

3) Sur ta carte, repasse en **bleu** les **fleuves** et écris leur **nom**.



3/ **L'embouchure** d'un fleuve est l'endroit où il se jette dans la mer.

Complète le tableau : mets une croix.

Se jette dans	L'océan Atlantique	La mer Méditerranée	La Manche
La Seine			X
La Loire	X		
La Garonne	X		
Le Rhône		X	

Recherche dans ton dictionnaire la définition :

- d'un estuaire : **Embouchure élargie du fleuve**
- d'un delta : **Embouchure à plusieurs bras**

4/ Dans quelles montagnes ces fleuves prennent-ils leur source ?

- Loire : **Le Massif Central**
- Garonne : **Les Pyrénées**
- Rhône : **Les Alpes**

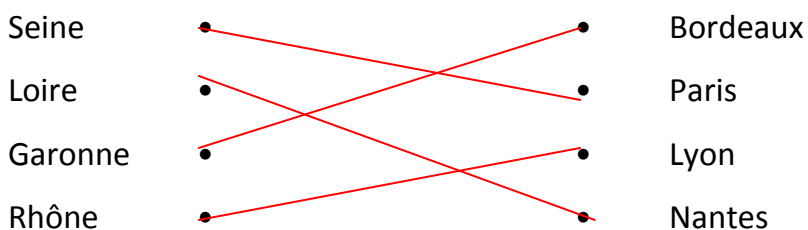
5/ Un affluent est un cours d'eau qui se jette dans un autre plus important.

De quels fleuves sont-ils les affluents ? Complète avec **Seine, Loire, Garonne, Rhône**

- Saône, Isère, Ardèche : **Rhône**
- Eure, Marne, Oise : **Seine**
- Dordogne, Ariège, Lot : **Garonne**
- Allier, Vienne, Loir : **Loire**

6/ Relie et écris le nom des villes sur la carte

Traverse



7/ Cherche dans le dictionnaire la définition de :

Confluent : **Endroit où deux cours d'eau se rejoignent.**

8/ Complètes avec le mot qui convient : **amont, embouchure, affluent, aval**

- Un cours d'eau qui se jette dans un autre : **affluent**
- Partie d'un cours d'eau qui se trouve plus proche de la source : **amont**
- Partie d'un cours d'eau qui se trouve plus proche de la mer : **aval**
- Entrée d'un fleuve dans la mer : **embouchure**